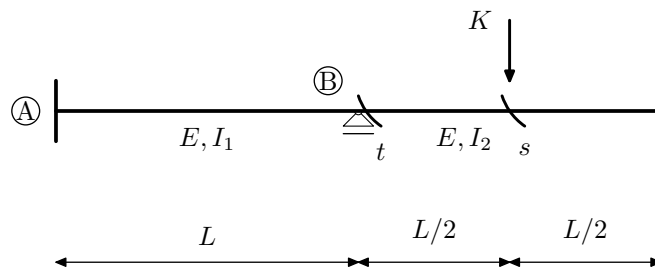
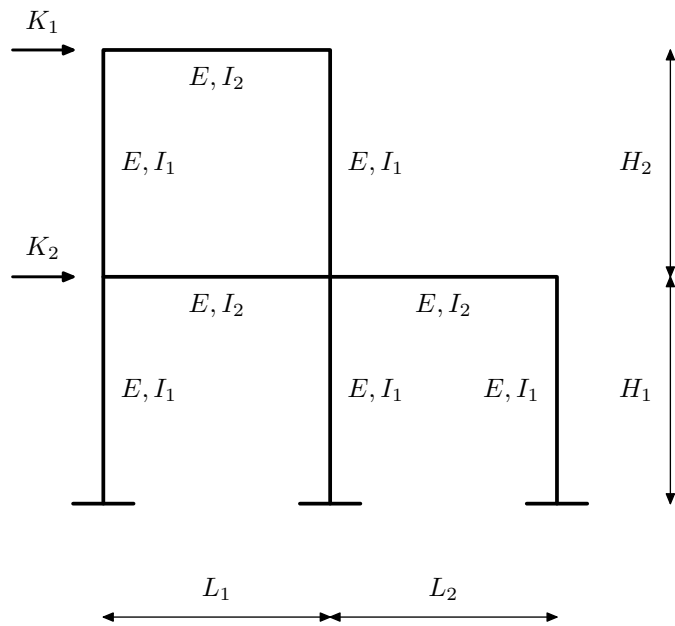


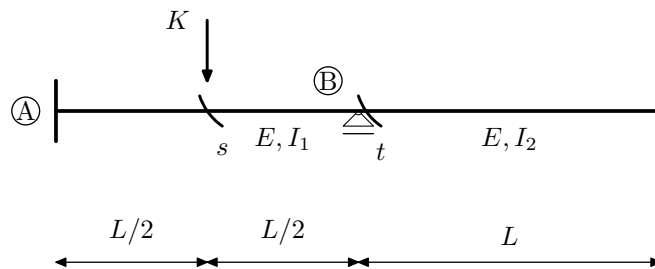
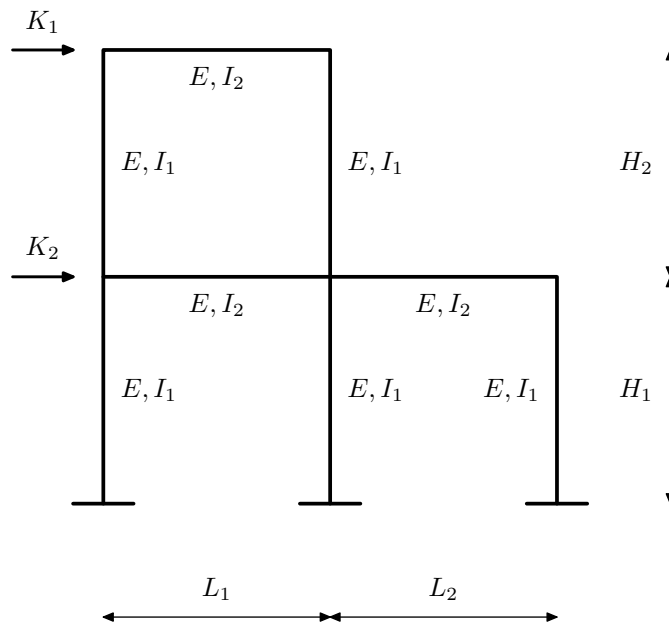
# 1

- Crossovim postupkom riješite zadatak iz prvog programa
- Kombinacijom Csonka-Werner postupka i Crossovog postupka riješite zadani okvir
- Proračun okvira programom DiM
- Proračun okvira programom DiM uz  $F \geq 10^8 \text{m}^2$
- Odredite utjecajnu liniju za  $M_t$ ,  $M_s$ ,  $T_s$ ,  $M_A$  i  $R_B$  na zadanom kontinuiranom nosaču i pomoću utjecajne linije izračunajte tražene statičke veličine za zadano opterećenje
- Iznos tražene statičke veličine proračunat pomoću utjecajne linije provjerite proračunom nosača za zadano opterećenje programom DiM



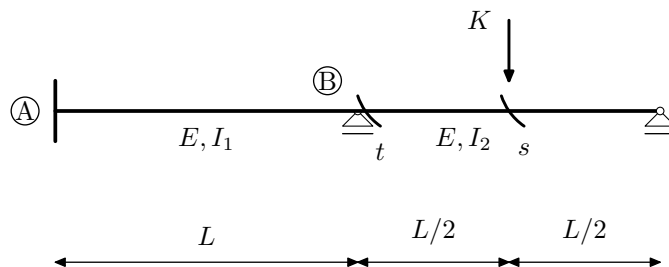
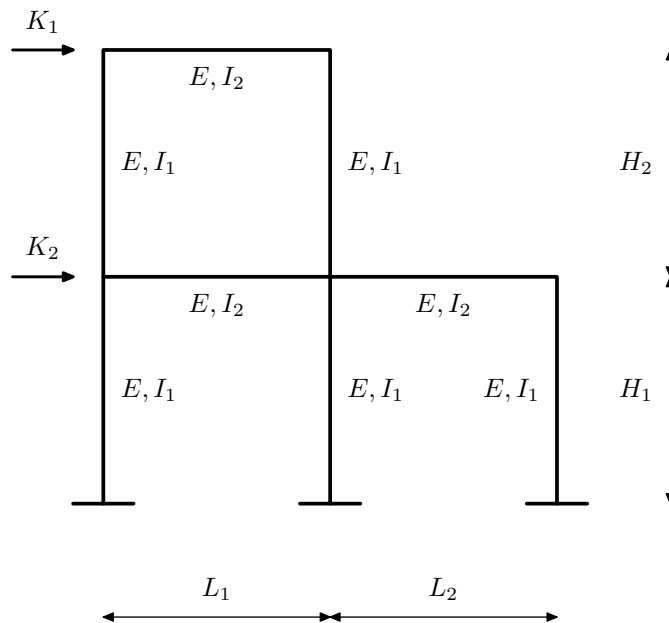
## 2

- Crossovim postupkom riješite zadatak iz prvog programa
- Kombinacijom Csonka-Werner postupka i Crossovog postupka riješite zadani okvir
- Proračun okvira programom DiM
- Proračun okvira programom DiM uz  $F \geq 10^8 \text{m}^2$
- Odredite utjecajnu liniju za  $M_t$ ,  $M_s$ ,  $T_s$ ,  $M_A$  i  $R_B$  na zadanom kontinuiranom nosaču i pomoću utjecajne linije izračunajte tražene statičke veličine za zadano opterećenje
- Iznos tražene statičke veličine proračunat pomoću utjecajne linije provjerite proračunom nosača za zadano opterećenje programom DiM



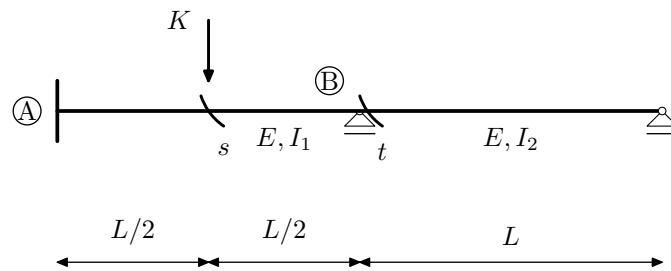
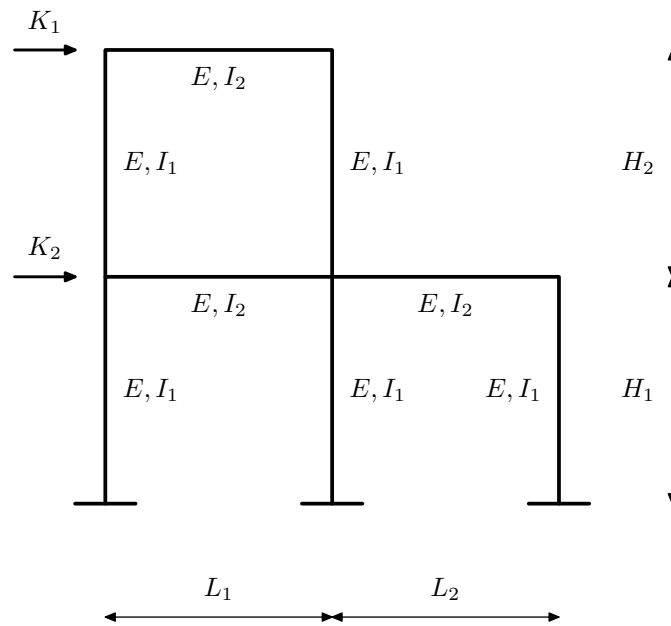
# 3

- Crossovim postupkom riješite zadatak iz prvog programa
- Kombinacijom Csonka-Werner postupka i Crossovog postupka riješite zadani okvir
- Proračun okvira programom DiM
- Proračun okvira programom DiM uz  $F \geq 10^8 \text{m}^2$
- Odredite utjecajnu liniju za  $M_t$ ,  $M_s$ ,  $T_s$ ,  $M_A$  i  $R_B$  na zadanom kontinuiranom nosaču i pomoću utjecajne linije izračunajte tražene statičke veličine za zadano opterećenje
- Iznos tražene statičke veličine proračunat pomoću utjecajne linije provjerite proračunom nosača za zadano opterećenje programom DiM



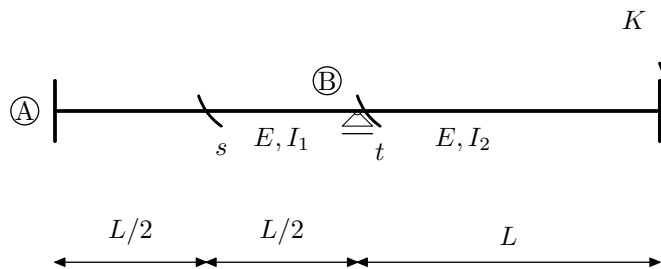
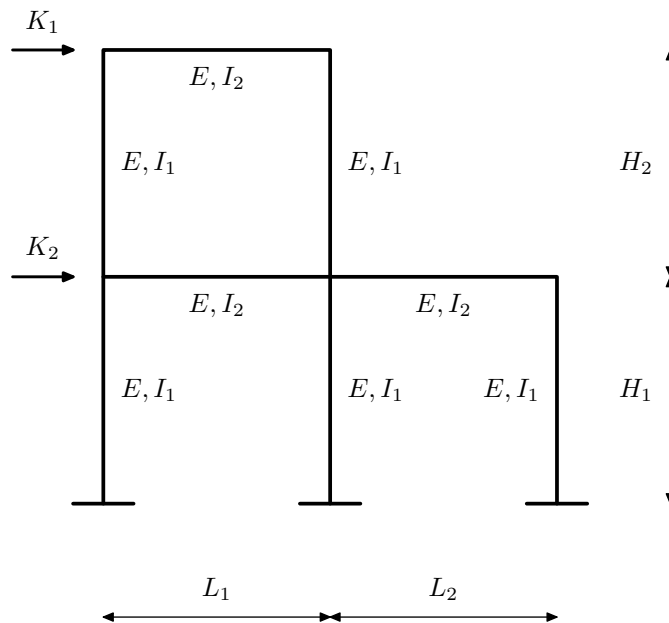
# 4

- Crossovim postupkom riješite zadatak iz prvog programa
- Kombinacijom Csonka-Werner postupka i Crossovog postupka riješite zadani okvir
- Proračun okvira programom DiM
- Proračun okvira programom DiM uz  $F \geq 10^8 \text{m}^2$
- Odredite utjecajnu liniju za  $M_t$ ,  $M_s$ ,  $T_s$ ,  $M_A$  i  $R_B$  na zadanom kontinuiranom nosaču i pomoću utjecajne linije izračunajte tražene statičke veličine za zadano opterećenje
- Iznos tražene statičke veličine proračunat pomoću utjecajne linije provjerite proračunom nosača za zadano opterećenje programom DiM



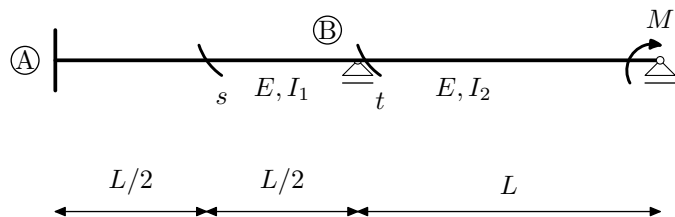
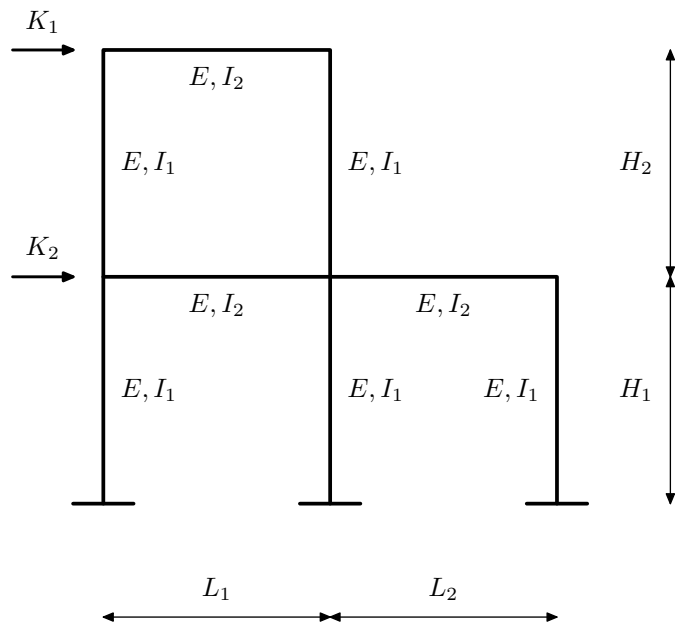
# 5

- Crossovim postupkom riješite zadatak iz prvog programa
- Kombinacijom Csonka-Werner postupka i Crossovog postupka riješite zadani okvir
- Proračun okvira programom DiM
- Proračun okvira programom DiM uz  $F \geq 10^8 \text{m}^2$
- Odredite utjecajnu liniju za  $M_t$ ,  $M_s$ ,  $T_s$ ,  $M_A$  i  $R_B$  na zadanom kontinuiranom nosaču i pomoću utjecajne linije izračunajte tražene statičke veličine za zadano opterećenje
- Iznos tražene statičke veličine proračunat pomoću utjecajne linije provjerite proračunom nosača za zadano opterećenje programom DiM



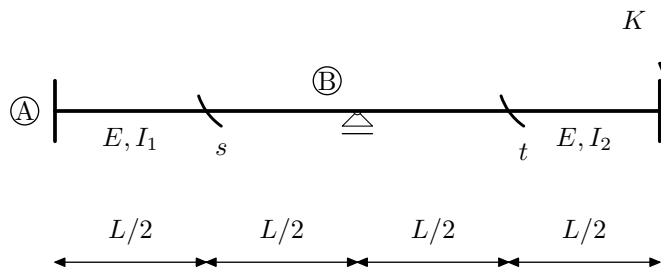
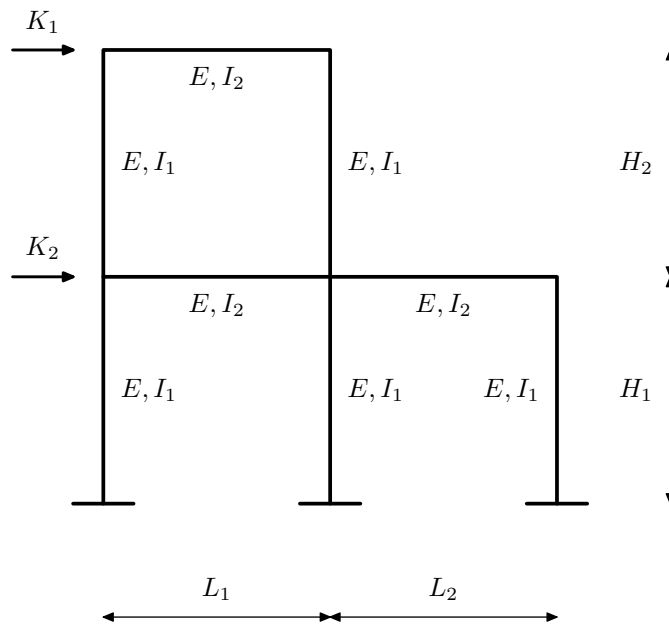
# 6

- Crossovim postupkom riješite zadatak iz prvog programa
- Kombinacijom Csonka-Werner postupka i Crossovog postupka riješite zadani okvir
- Proračun okvira programom DiM
- Proračun okvira programom DiM uz  $F \geq 10^8 \text{m}^2$
- Odredite utjecajnu liniju za  $M_t$ ,  $M_s$ ,  $T_s$ ,  $M_A$  i  $R_B$  na zadanom kontinuiranom nosaču i pomoću utjecajne linije izračunajte tražene statičke veličine za zadano opterećenje
- Iznos tražene statičke veličine proračunat pomoću utjecajne linije provjerite proračunom nosača za zadano opterećenje programom DiM



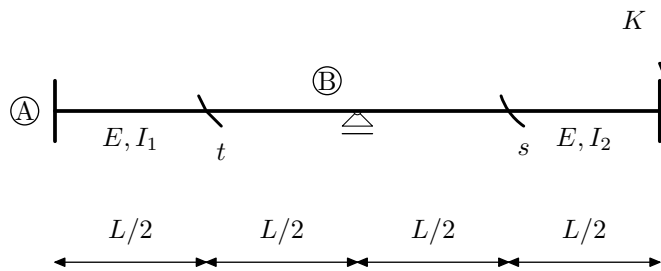
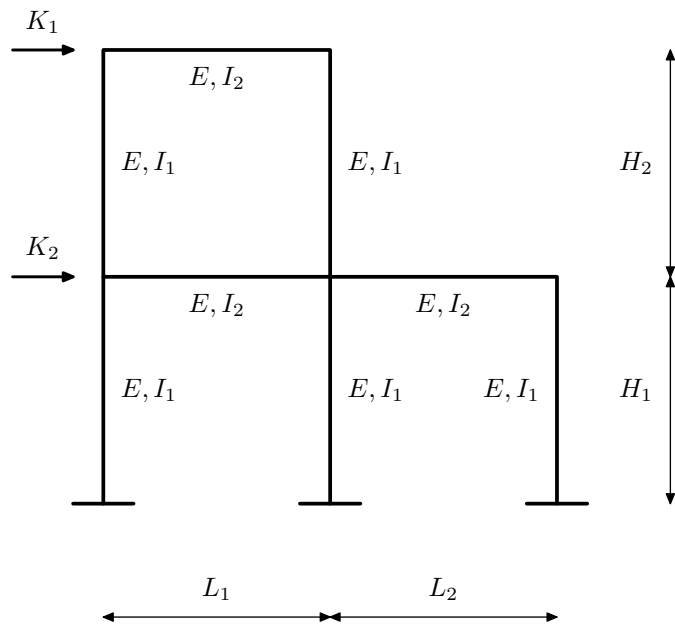
# 7

- Crossovim postupkom riješite zadatak iz prvog programa
- Kombinacijom Csonka-Werner postupka i Crossovog postupka riješite zadani okvir
- Proračun okvira programom DiM
- Proračun okvira programom DiM uz  $F \geq 10^8 \text{m}^2$
- Odredite utjecajnu liniju za  $M_t$ ,  $M_s$ ,  $T_s$ ,  $M_A$  i  $R_B$  na zadanom kontinuiranom nosaču i pomoću utjecajne linije izračunajte tražene statičke veličine za zadano opterećenje
- Iznos tražene statičke veličine proračunat pomoću utjecajne linije provjerite proračunom nosača za zadano opterećenje programom DiM



# 8

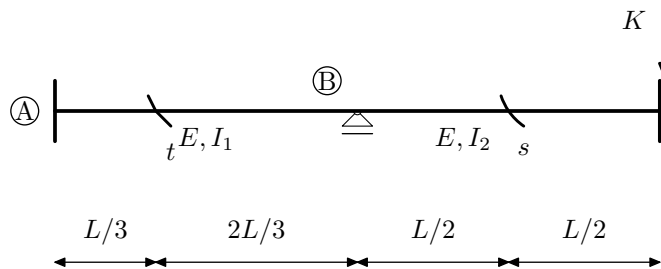
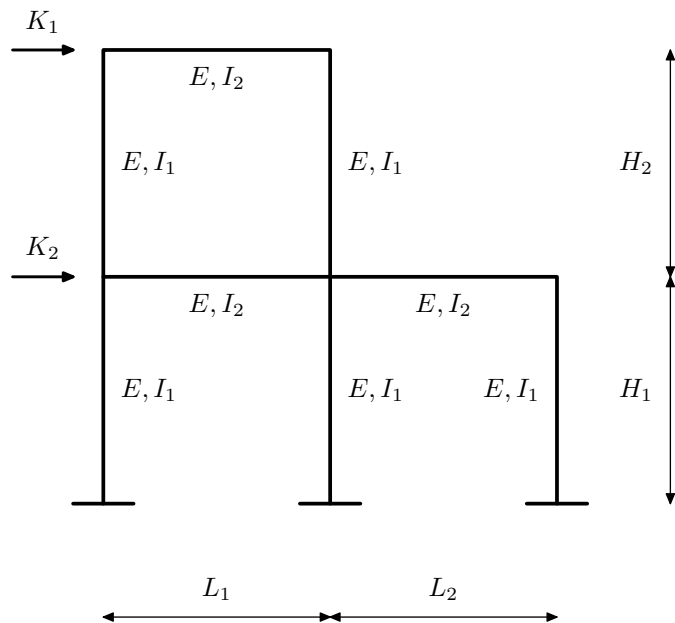
- Crossovim postupkom riješite zadatak iz prvog programa
- Kombinacijom Csonka-Werner postupka i Crossovog postupka riješite zadani okvir
- Proračun okvira programom DiM
- Proračun okvira programom DiM uz  $F \geq 10^8 \text{m}^2$
- Odredite utjecajnu liniju za  $M_t$ ,  $M_s$ ,  $T_s$ ,  $M_A$  i  $R_B$  na zadanom kontinuiranom nosaču i pomoću utjecajne linije izračunajte tražene statičke veličine za zadano opterećenje
- Iznos tražene statičke veličine proračunat pomoću utjecajne linije provjerite proračunom nosača za zadano opterećenje programom DiM





# 9

- Crossovim postupkom riješite zadatak iz prvog programa
- Kombinacijom Csonka-Werner postupka i Crossovog postupka riješite zadani okvir
- Proračun okvira programom DiM
- Proračun okvira programom DiM uz  $F \geq 10^8 \text{m}^2$
- Odredite utjecajnu liniju za  $M_t$ ,  $M_s$ ,  $T_s$ ,  $M_A$  i  $R_B$  na zadanom kontinuiranom nosaču i pomoću utjecajne linije izračunajte tražene statičke veličine za zadano opterećenje
- Iznos tražene statičke veličine proračunat pomoću utjecajne linije provjerite proračunom nosača za zadano opterećenje programom DiM



# 10

- Crossovim postupkom riješite zadatak iz prvog programa
- Kombinacijom Csonka-Werner postupka i Crossovog postupka riješite zadani okvir
- Proračun okvira programom DiM
- Proračun okvira programom DiM uz  $F \geq 10^8 \text{m}^2$
- Odredite utjecajnu liniju za  $M_t$ ,  $M_s$ ,  $T_s$ ,  $M_A$  i  $R_B$  na zadanom kontinuiranom nosaču i pomoću utjecajne linije izračunajte tražene statičke veličine za zadano opterećenje
- Iznos tražene statičke veličine proračunat pomoću utjecajne linije provjerite proračunom nosača za zadano opterećenje programom DiM

