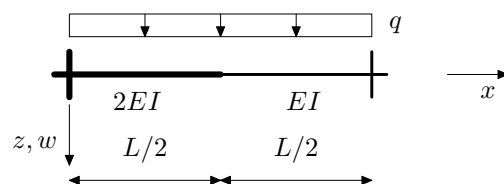


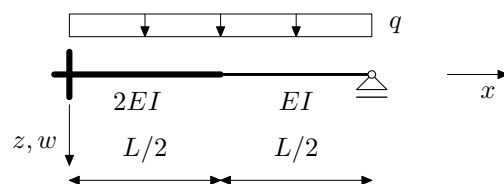
## NMK –POPRAVNI KOLOKVIJ, 20.1.2014.

- Zadatak 1.a.** (12,5) Metodom pomaka odredite momentni dijagram.  
**Zadatak 1.b.** (12,5) Crossovom metodom odredite momentni dijagram.  
**Zadatak 1.c.** (12,5) Odredite utjecajnu liniju za lijevi ležajni moment.  
**Zadatak 1.d.** (12,5) Odredite utjecajnu liniju za moment u sredini raspona.



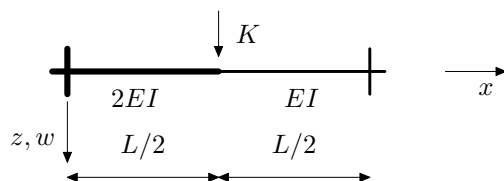
## NMK –POPRAVNI KOLOKVIJ, 20.1.2014.

- Zadatak 1.a.** (12,5) Metodom pomaka odredite momentni dijagram.  
**Zadatak 1.b.** (12,5) Crossovom metodom odredite momentni dijagram.  
**Zadatak 1.c.** (12,5) Odredite utjecajnu liniju za lijevi ležajni moment.  
**Zadatak 1.d.** (12,5) Odredite utjecajnu liniju za moment u sredini raspona.



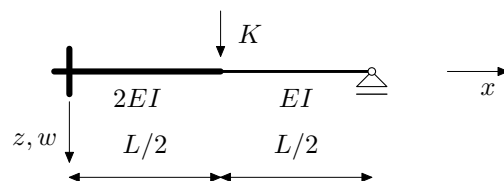
## NMK –POPRAVNI KOLOKVIJ, 20.1.2014.

- Zadatak 1.a.** (12,5) Metodom pomaka odredite momentni dijagram.  
**Zadatak 1.b.** (12,5) Crossovom metodom odredite momentni dijagram.  
**Zadatak 1.c.** (12,5) Odredite utjecajnu liniju za lijevi ležajni moment.  
**Zadatak 1.d.** (12,5) Odredite utjecajnu liniju za moment u sredini raspona.



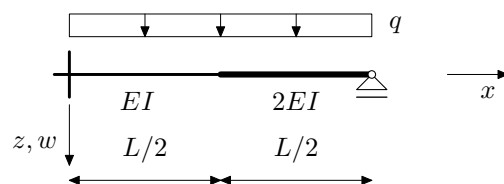
## NMK –POPRAVNI KOLOKVIJ, 20.1.2014.

- Zadatak 1.a.** (12,5) Metodom pomaka odredite momentni dijagram.  
**Zadatak 1.b.** (12,5) Crossovom metodom odredite momentni dijagram.  
**Zadatak 1.c.** (12,5) Odredite utjecajnu liniju za lijevi ležajni moment.  
**Zadatak 1.d.** (12,5) Odredite utjecajnu liniju za moment u sredini raspona.



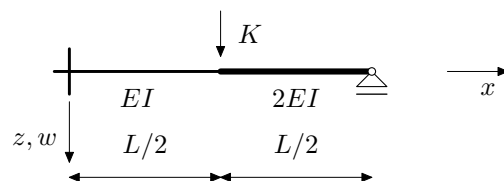
## NMK –POPRAVNI KOLOKVIJ, 20.1.2014.

- Zadatak 1.a.** (12,5) Metodom pomaka odredite momentni dijagram.  
**Zadatak 1.b.** (12,5) Crossovom metodom odredite momentni dijagram.  
**Zadatak 1.c.** (12,5) Odredite utjecajnu liniju za lijevi ležajni moment.  
**Zadatak 1.d.** (12,5) Odredite utjecajnu liniju za moment u sredini raspona.



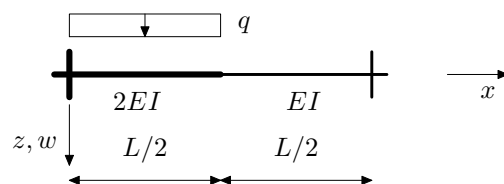
## NMK –POPRAVNI KOLOKVIJ, 20.1.2014.

- Zadatak 1.a.** (12,5) Metodom pomaka odredite momentni dijagram.  
**Zadatak 1.b.** (12,5) Crossovom metodom odredite momentni dijagram.  
**Zadatak 1.c.** (12,5) Odredite utjecajnu liniju za lijevi ležajni moment.  
**Zadatak 1.d.** (12,5) Odredite utjecajnu liniju za moment u sredini raspona.



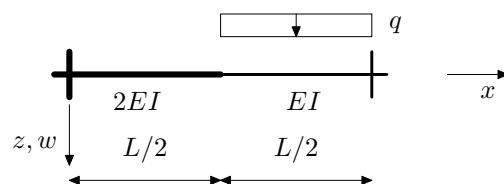
## NMK –POPRAVNI KOLOKVIJ, 20.1.2014.

- Zadatak 1.a.** (12,5) Metodom pomaka odredite momentni dijagram.  
**Zadatak 1.b.** (12,5) Crossovom metodom odredite momentni dijagram.  
**Zadatak 1.c.** (12,5) Odredite utjecajnu liniju za lijevi ležajni moment.  
**Zadatak 1.d.** (12,5) Odredite utjecajnu liniju za moment u sredini raspona.



## NMK –POPRAVNI KOLOKVIJ, 20.1.2014.

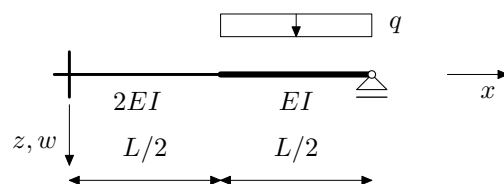
- Zadatak 1.a.** (12,5) Metodom pomaka odredite momentni dijagram.  
**Zadatak 1.b.** (12,5) Crossovom metodom odredite momentni dijagram.  
**Zadatak 1.c.** (12,5) Odredite utjecajnu liniju za lijevi ležajni moment.  
**Zadatak 1.d.** (12,5) Odredite utjecajnu liniju za moment u sredini raspona.





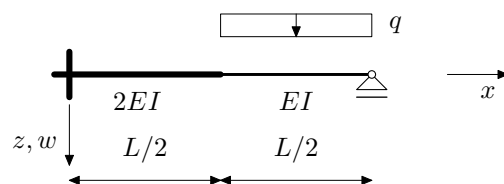
## NMK –POPRAVNI KOLOKVIJ, 20.1.2014.

- Zadatak 1.a.** (12,5) Metodom pomaka odredite momentni dijagram.  
**Zadatak 1.b.** (12,5) Crossovom metodom odredite momentni dijagram.  
**Zadatak 1.c.** (12,5) Odredite utjecajnu liniju za lijevi ležajni moment.  
**Zadatak 1.d.** (12,5) Odredite utjecajnu liniju za moment u sredini raspona.



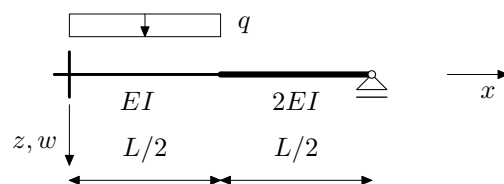
## NMK –POPRAVNI KOLOKVIJ, 20.1.2014.

- Zadatak 1.a.** (12,5) Metodom pomaka odredite momentni dijagram.  
**Zadatak 1.b.** (12,5) Crossovom metodom odredite momentni dijagram.  
**Zadatak 1.c.** (12,5) Odredite utjecajnu liniju za lijevi ležajni moment.  
**Zadatak 1.d.** (12,5) Odredite utjecajnu liniju za moment u sredini raspona.



## NMK –POPRAVNI KOLOKVIJ, 20.1.2014.

- Zadatak 1.a.** (12,5) Metodom pomaka odredite momentni dijagram.  
**Zadatak 1.b.** (12,5) Crossovom metodom odredite momentni dijagram.  
**Zadatak 1.c.** (12,5) Odredite utjecajnu liniju za lijevi ležajni moment.  
**Zadatak 1.d.** (12,5) Odredite utjecajnu liniju za moment u sredini raspona.



## NMK –POPRAVNI KOLOKVIJ, 20.1.2014.

- Zadatak 1.a.** (12,5) Metodom pomaka odredite momentni dijagram.  
**Zadatak 1.b.** (12,5) Crossovom metodom odredite momentni dijagram.  
**Zadatak 1.c.** (12,5) Odredite utjecajnu liniju za lijevi ležajni moment.  
**Zadatak 1.d.** (12,5) Odredite utjecajnu liniju za moment u sredini raspona.

