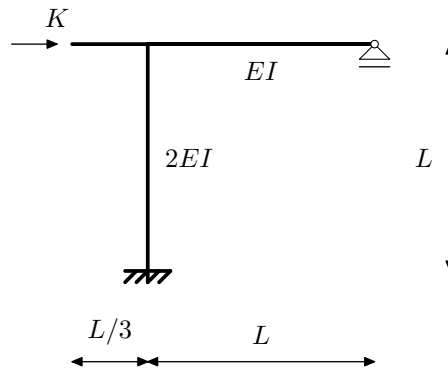


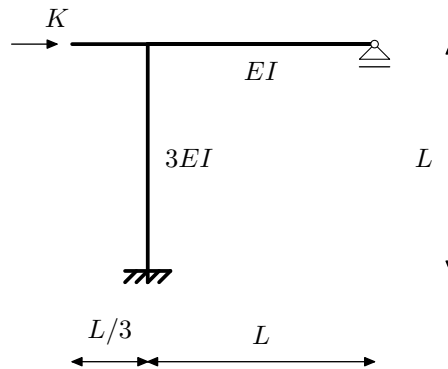
NMK –1.KOLOKVIJ, 27.11.2009.

- Zadatak 1.a. (25) Metodom pomaka odredite momentni dijagram.
Zadatak 1.b. (25) Crossovom metodom odredite momentni dijagram.
Zadatak 1.c. (25) Postupkom Csonka-Werner odredite momentni dijagram.
Zadatak 1.d. (25) Pomoću utjecajne linije odredite vrijednost ležajnog momenta.



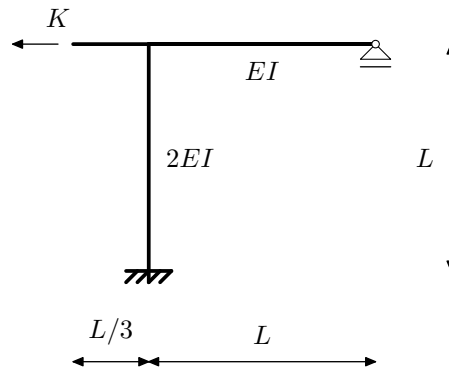
NMK –1.KOLOKVIJ, 27.11.2009.

- Zadatak 1.a. (25) Metodom pomaka odredite momentni dijagram.
Zadatak 1.b. (25) Crossovom metodom odredite momentni dijagram.
Zadatak 1.c. (25) Postupkom Csonka-Werner odredite momentni dijagram.
Zadatak 1.d. (25) Pomoću utjecajne linije odredite vrijednost ležajnog momenta.



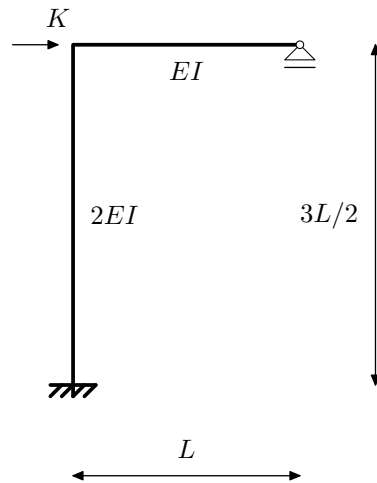
NMK –1.KOLOKVIJ, 27.11.2009.

- Zadatak 1.a. (25) Metodom pomaka odredite momentni dijagram.
Zadatak 1.b. (25) Crossovom metodom odredite momentni dijagram.
Zadatak 1.c. (25) Postupkom Csonka-Werner odredite momentni dijagram.
Zadatak 1.d. (25) Pomoću utjecajne linije odredite vrijednost ležajnog momenta.



NMK –1.KOLOKVIJ, 27.11.2009.

- Zadatak 1.a. (25) Metodom pomaka odredite momentni dijagram.
Zadatak 1.b. (25) Crossovom metodom odredite momentni dijagram.
Zadatak 1.c. (25) Postupkom Csonka-Werner odredite momentni dijagram.
Zadatak 1.d. (25) Pomoću utjecajne linije odredite vrijednost ležajnog momenta.



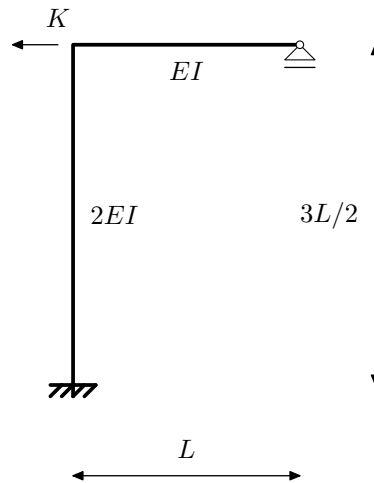
NMK –1.KOLOKVIJ, 27.11.2009.

- Zadatak 1.a. (25) Metodom pomaka odredite momentni dijagram.
Zadatak 1.b. (25) Crossovom metodom odredite momentni dijagram.
Zadatak 1.c. (25) Postupkom Csonka-Werner odredite momentni dijagram.
Zadatak 1.d. (25) Pomoću utjecajne linije odredite vrijednost ležajnog momenta.



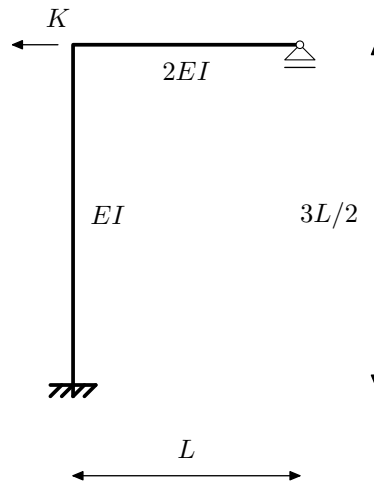
NMK –1.KOLOKVIJ, 27.11.2009.

- Zadatak 1.a. (25) Metodom pomaka odredite momentni dijagram.
Zadatak 1.b. (25) Crossovom metodom odredite momentni dijagram.
Zadatak 1.c. (25) Postupkom Csonka-Werner odredite momentni dijagram.
Zadatak 1.d. (25) Pomoću utjecajne linije odredite vrijednost ležajnog momenta.



NMK –1.KOLOKVIJ, 27.11.2009.

- Zadatak 1.a. (25) Metodom pomaka odredite momentni dijagram.
Zadatak 1.b. (25) Crossovom metodom odredite momentni dijagram.
Zadatak 1.c. (25) Postupkom Csonka-Werner odredite momentni dijagram.
Zadatak 1.d. (25) Pomoću utjecajne linije odredite vrijednost ležajnog momenta.



NMK –1.KOLOKVIJ, 27.11.2009.

- Zadatak 1.a. (25) Metodom pomaka odredite momentni dijagram.
Zadatak 1.b. (25) Crossovom metodom odredite momentni dijagram.
Zadatak 1.c. (25) Postupkom Csonka-Werner odredite momentni dijagram.
Zadatak 1.d. (25) Pomoću utjecajne linije odredite vrijednost ležajnog momenta.

