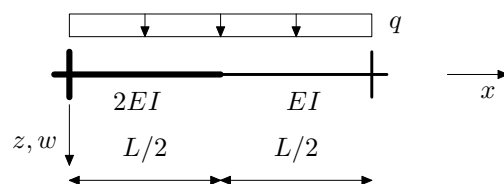


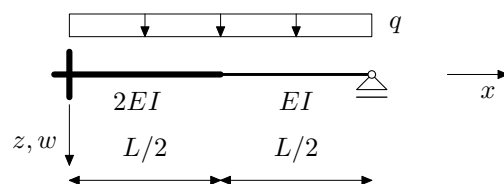
## NMK –1.KOLOKVIJ, 29.11.2013. - 1

- Zadatak 1.a.** (25) Metodom pomaka odredite momentni dijagram.  
**Zadatak 1.b.** (25) Crossovom metodom odredite momentni dijagram.  
**Zadatak 1.c.** (25) Odredite utjecajnu liniju za lijevi ležajni moment.  
**Zadatak 1.d.** (25) Odredite utjecajnu liniju za moment u sredini raspona.



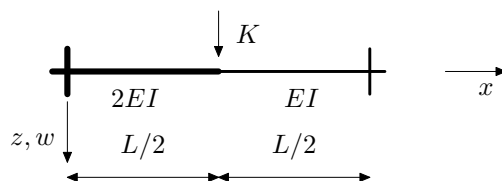
## NMK –1.KOLOKVIJ, 29.11.2013. - 2

- Zadatak 1.a.** (25) Metodom pomaka odredite momentni dijagram.  
**Zadatak 1.b.** (25) Crossovom metodom odredite momentni dijagram.  
**Zadatak 1.c.** (25) Odredite utjecajnu liniju za lijevi ležajni moment.  
**Zadatak 1.d.** (25) Odredite utjecajnu liniju za moment u sredini raspona.



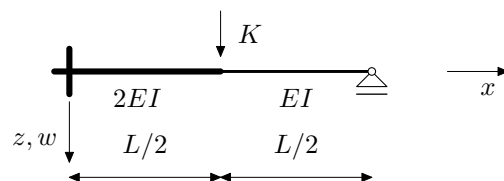
## NMK –1.KOLOKVIJ, 29.11.2013. - 3

- Zadatak 1.a.** (25) Metodom pomaka odredite momentni dijagram.  
**Zadatak 1.b.** (25) Crossovom metodom odredite momentni dijagram.  
**Zadatak 1.c.** (25) Odredite utjecajnu liniju za lijevi ležajni moment.  
**Zadatak 1.d.** (25) Odredite utjecajnu liniju za moment u sredini raspona.



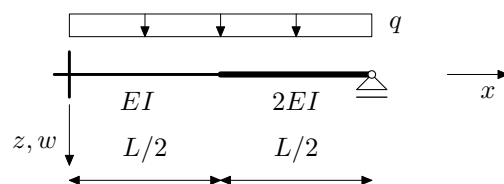
## NMK –1.KOLOKVIJ, 29.11.2013. - 4

- Zadatak 1.a.** (25) Metodom pomaka odredite momentni dijagram.  
**Zadatak 1.b.** (25) Crossovom metodom odredite momentni dijagram.  
**Zadatak 1.c.** (25) Odredite utjecajnu liniju za lijevi ležajni moment.  
**Zadatak 1.d.** (25) Odredite utjecajnu liniju za moment u sredini raspona.



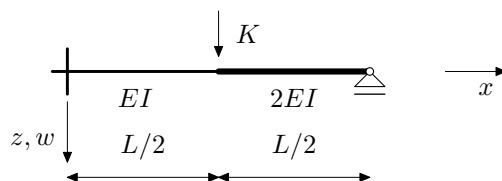
## NMK –1.KOLOKVIJ, 29.11.2013. - 5

- Zadatak 1.a. (25) Metodom pomaka odredite momentni dijagram.  
Zadatak 1.b. (25) Crossovom metodom odredite momentni dijagram.  
Zadatak 1.c. (25) Odredite utjecajnu liniju za lijevi ležajni moment.  
Zadatak 1.d. (25) Odredite utjecajnu liniju za moment u sredini raspona.



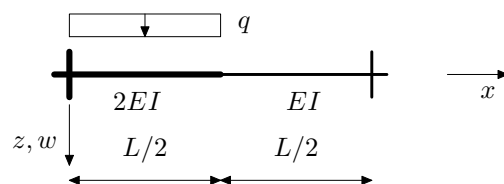
## NMK –1.KOLOKVIJ, 29.11.2013. - 6

- Zadatak 1.a.** (25) Metodom pomaka odredite momentni dijagram.  
**Zadatak 1.b.** (25) Crossovom metodom odredite momentni dijagram.  
**Zadatak 1.c.** (25) Odredite utjecajnu liniju za lijevi ležajni moment.  
**Zadatak 1.d.** (25) Odredite utjecajnu liniju za moment u sredini raspona.



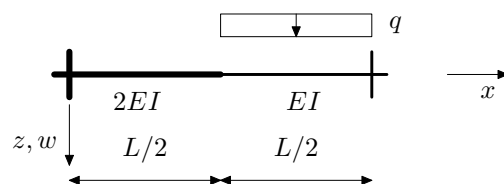
## NMK –1.KOLOKVIJ, 29.11.2013. - 7

- Zadatak 1.a.** (25) Metodom pomaka odredite momentni dijagram.  
**Zadatak 1.b.** (25) Crossovom metodom odredite momentni dijagram.  
**Zadatak 1.c.** (25) Odredite utjecajnu liniju za lijevi ležajni moment.  
**Zadatak 1.d.** (25) Odredite utjecajnu liniju za moment u sredini raspona.



## NMK –1.KOLOKVIJ, 29.11.2013. - 8

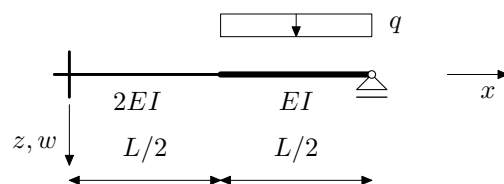
- Zadatak 1.a. (25) Metodom pomaka odredite momentni dijagram.  
Zadatak 1.b. (25) Crossovom metodom odredite momentni dijagram.  
Zadatak 1.c. (25) Odredite utjecajnu liniju za lijevi ležajni moment.  
Zadatak 1.d. (25) Odredite utjecajnu liniju za moment u sredini raspona.





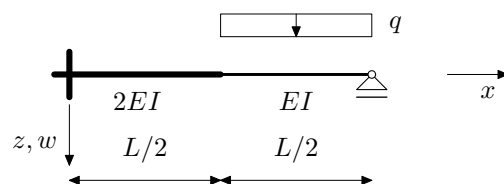
## NMK –1.KOLOKVIJ, 29.11.2013. - 9

- Zadatak 1.a. (25) Metodom pomaka odredite momentni dijagram.  
Zadatak 1.b. (25) Crossovom metodom odredite momentni dijagram.  
Zadatak 1.c. (25) Odredite utjecajnu liniju za lijevi ležajni moment.  
Zadatak 1.d. (25) Odredite utjecajnu liniju za moment u sredini raspona.



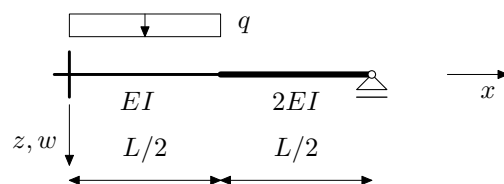
## NMK –1.KOLOKVIJ, 29.11.2013. - 10

- Zadatak 1.a.** (25) Metodom pomaka odredite momentni dijagram.  
**Zadatak 1.b.** (25) Crossovom metodom odredite momentni dijagram.  
**Zadatak 1.c.** (25) Odredite utjecajnu liniju za lijevi ležajni moment.  
**Zadatak 1.d.** (25) Odredite utjecajnu liniju za moment u sredini raspona.



## NMK –1.KOLOKVIJ, 29.11.2013. - 11

- Zadatak 1.a.** (25) Metodom pomaka odredite momentni dijagram.  
**Zadatak 1.b.** (25) Crossovom metodom odredite momentni dijagram.  
**Zadatak 1.c.** (25) Odredite utjecajnu liniju za lijevi ležajni moment.  
**Zadatak 1.d.** (25) Odredite utjecajnu liniju za moment u sredini raspona.



## NMK –1.KOLOKVIJ, 29.11.2013. - 12

- Zadatak 1.a.** (25) Metodom pomaka odredite momentni dijagram.  
**Zadatak 1.b.** (25) Crossovom metodom odredite momentni dijagram.  
**Zadatak 1.c.** (25) Odredite utjecajnu liniju za lijevi ležajni moment.  
**Zadatak 1.d.** (25) Odredite utjecajnu liniju za moment u sredini raspona.

